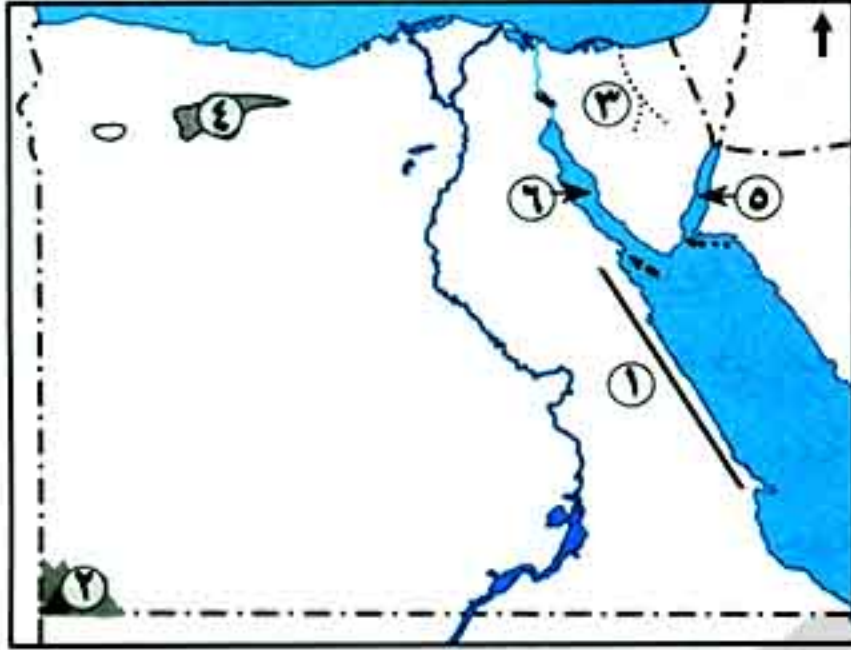




مخار
ص ٢٦٧

أولاً : تدريبات الكتاب المدرسي على الدرس الأول



١س على خريطة مصر الصماء ، اكتب مدلول الأرقام التالية :

- ١ - سلاسل جبال
- ٢ - جبل
- ٣ - وادى
- ٤ - منخفض
- ٥ - خليج
- ٦ - خليج

٢س اكتب كلمة (صواب) أمام العبارة الصحيحة ، وكلمة (خطأ) أمام العبارة غير الصحيحة فيما يلي :

- ١ - تقع الصحراء الشرقية ما بين ساحل البحر المتوسط شمالاً ، وخليج العقبة والسويس جنوباً . ()
- ٢ - يعتمد سكان الواحات على المياه الجوفية في الزراعة . ()
- ٣ - من أشهر جبال شبه جزيرة سيناء جبل سانت كاترين وجبل الشايب . ()
- ٤ - تتميز الصحراء الغربية بوجود المنخفضات التي توجد في الصحراء الشرقية وشبه جزيرة سيناء . ()
- ٥ - يوجد وادى العلاقى في الصحراء الشرقية ، بينما يوجد وادى العريش في الصحراء الغربية . ()

٣س أكمل العبارات الآتية بكلمات مناسبة :

- ١ - من الحيوانات البرية في البيئة الصحراوية ، و
- ٢ - تهب الرياح المحملة بالأتربة على الوادى والدلتا في فصل وتُعرف باسم
- ٣ - تنتشر بعض الظواهر الجغرافية فوق الهضاب مثل ، و
- ٤ - تنمو في البيئة الصحراوية بعض النباتات الطبيعية ، منها ، و

٤س ما النتائج المترتبة على ؟:

- ١ - قلة الأمطار في البيئة الصحراوية . ٢ - وجود الآبار والعيون المائية داخل الواحات بالمنخفضات .
- ٣ - انتشار التربة الرملية الصفراء في البيئة الصحراوية .

٥س قارن بين الصحراء الشرقية والصحراء الغربية من حيث :

(الموقع والامتداد - المساحة - أهم مظاهر السطح)

| وجه المقارنة | الصحراء الغربية | الصحراء الشرقية |
|------------------|-----------------|-----------------|
| الموقع والامتداد | | |
| المساحة | | |
| أهم مظاهر السطح | | |



تدريبات سلاح التلميذ على الدرس الأول

ثانياً :



حل التدريب

أكمل العبارات التالية بما يناسبها من كلمات :

- ١ - تبلغ نسبة مساحة البيئة ٩٦٪ تقريباً من جملة مساحة مصر .
- ٢ - أكبر الصحارى المصرية من حيث المساحة هي الصحراء (القاهرة ٢٠١٩)
- ٣ - توجد البيئة الصحراوية في مصر في ثلاث مناطق هي و و
- ٤ - يحد الصحراء الغربية من جهة الشرق ومن جهة الغرب
- ٥ - يحد شبه جزيرة سيناء من جهة الشمال ومن جهة الشرق الحدود المصرية و
- ٦ - تبلغ مساحة الصحراء ٢٢٪ من مساحة مصر . (اليوم ٢٠١٩)
- ٧ - يوجد جبل في الركن لمصر ويمتد في مصر وليبيا والسودان .
- ٨ - تنقسم الصحراء الغربية إلى ثلاث هضاب : هضبة في الشمال و في الوسط و في الجنوب .
- ٩ - تنتشر في الصحراء الغربية بعض الظواهر الجغرافية مثل و و
- ١٠ - هضبة العبادة تقطعها وأهمها وادي
- ١١ - تختفى ظاهرة من الصحراء الشرقية .
- ١٢ - يعتبر جبل أعلى قمة جبلية في مصر . (السويس ٢٠١٩)
- ١٣ - يعتبر جبل أكثر جبال البحر الأحمر ارتفاعاً .
- ١٤ - يعتبر جبل من القمم الجبلية القبايية في شمال سيناء . (بورسعيد ٢٠١٩)
- ١٥ - تمتد سلاسل جبال البحر الأحمر من إلى
- ١٦ - تتسم تربة البيئة الصحراوية بأنها تربة فقيرة ، وتزداد جودتها في
- ١٧ - تقوم الزراعة في الواحات اعتماداً على
- ١٨ - تهب الرياح المحملة بالأتربة على الوادي والدلتا في فصل وتعرف باسم
- ١٩ - من النباتات الطبيعية في البيئة الصحراوية بينما من الحيوانات البرية .

اكتب كلمة (صواب) أمام العبارة الصحيحة، وكلمة (خطأ) أمام العبارة غير الصحيحة مع التصويب :

- ١ - يحد الصحراء الغربية من جهة الشرق وادي النيل والدلتا . ()
- ٢ - تقع هضبة المعازة الجيرية جنوب الصحراء الشرقية . ()
- ٣ - تختفى ظاهرة المنخفضات من سطح الصحراء الغربية . ()
- ٤ - تقع الصحراء الشرقية ما بين البحر المتوسط شمالاً والبحر الأحمر جنوباً . ()
- ٥ - يوجد وادي العلاقي في الصحراء الشرقية بينما يوجد وادي العريش في الصحراء الغربية . ()
- ٦ - يحد الصحراء الشرقية والصحراء الغربية من الجنوب الحدود المصرية مع جمهورية السودان . ()
- ٧ - يعتبر جبل سانت كاترين بالصحراء الغربية أعلى قمة جبلية في مصر . (الغربية ٢٠١٩)
- ٨ - يعد جبل الشايب من أشهر جبال الصحراء الغربية . (بورسعيد ٢٠١٩)

هذا العمل خاص بموقع ذاكرولى التعليمي ولا يسمح بتداوله على مواقع أخرى





- ٩ - البيئة الصحراوية أقل البيئات مساحة في مصر .
 ١٠ - توجد هضبة العجمة في الصحراء الشرقية .
 ١١ - تنتشر الجبال في شمال وجنوب سيناء .
 ١٢ - تتميز تربة الواحات بزيادة جودتها .
 ١٣ - يتسم مناخ البيئة الصحراوية بارتفاع درجة الحرارة في فصل الشتاء خاصة في الليل .
 ١٤ - يعتمد سكان الواحات على مياه الأمطار في الزراعة .
 ١٥ - تسقط الأمطار الفجائية في الصحراء ، وتتجمع في الأودية الجافة على شكل سيول مدمرة .
 ١٦ - يتميز النبات الطبيعي في البيئة الصحراوية بأنه من الأنواع التي تتحمل الجفاف . (دمياط ٢٠١٩)
 ١٧ - يتميز النبات الطبيعي في الصحراء بتبعثره ، لكنه يتركز في مناطق الأودية والواحات والسهول القريبة من السواحل .
 ١٨ - يوجد منخفض القطارة في الصحراء الغربية .
 ١٩ - يحد شبه جزيرة سيناء من الجنوب البحر المتوسط .



حل التدريب

اختر الإجابة الصحيحة مما بين القوسين :

- ١ - يحد الصحراء الشرقية من جهة الشمال (شرق الدلتا - السودان - ليبيا - البحر الأحمر)
 ٢ - تقع هضبة في شمال الصحراء الغربية . (الجلف الكبير - الوسطى - مارماريكا - المعازة)
 ٣ - تبلغ مساحة ٢٢٪ تقريباً من مساحة مصر .
 (الصحراء الشرقية - الصحراء الغربية - شبه جزيرة سيناء - الواحات)
 ٤ - يعد جبل أكثر جبال الصحراء الشرقية ارتفاعاً .
 (الشايب - علبة - سانت كاترين - العوينات)
 ٥ - الجبل الذي يقع جنوب غرب مصر هو جبل (الشايب - سانت كاترين - موسى - العوينات)
 ٦ - يقع كل من منخفض الخارجة ومنخفض الداخلة في
 (الصحراء الشرقية - الصحراء الغربية - سيناء - الدلتا)
 ٧ - تنتشر ظاهرة في الصحراء الشرقية . (القاهرة ٢٠١٩)
 (المنخفضات - الواحات - الكثبان الرملية - الأودية الجافة)
 ٨ - أعلى قمة جبلية في مصر هي قمة جبل (الشايب - سانت كاترين - العوينات - علبة)
 ٩ - يخترق وادي العلاقي هضبة (الجلف الكبير - التيه - العباودة - المعازة)
 ١٠ - يعتبر بحر الرمال العظيم من أمثلة في مصر . (الدهبية ٢٠١٩)
 (الهضاب - المنخفضات - الجبال - الكثبان الرملية)
 ١١ - من هضاب الصحراء الشرقية هضبة
 (العجمة - الجلف الكبير - مارماريكا - الجلالة البحرية)
 ١٢ - تهب رياح الخماسين في فصل (الصيف - الشتاء - الربيع - الخريف) (دمياط ٢٠١٩)
 ١٣ - من أهم الحيوانات البرية في البيئة الصحراوية (الثعالب - الأبقار - الجاموس - الفهد)
 ١٤ - تبلغ مساحة ٦٨٪ من مساحة مصر .
 (الصحراء الغربية - الصحراء الشرقية - الدلتا - شبه جزيرة سيناء)

هذا العمل خاص بموقع ذاكرولى التعليمى ولا يسمح بتداوله على مواقع أخرى



حل التدريب

س ٤ اكتب المصطلح الجغرافى الذى تشير إليه العبارات التالية :

- ١ - المناطق التى يقل فيها المطر ، ويسودها الجفاف والفقير الشديد فى النبات ، ويندر فيها الحيوان ، ويغضى سطحها الرمال والحصى والصخور .
(.....)
- ٢ - مجار مائية كانت تجرى بها المياه قديماً ثم جفت .
(.....)
- ٣ - تجمعات من الرمال تتراكم بفعل الرياح .
(.....) (البحيرة ٢٠١٩)
- ٤ - جزء من الأرض يقل مستواه عن الأراضى المحيطة به .
(.....)
- ٥ - مصدر تتدفق منه المياه الجوفية إلى سطح الأرض تلقائياً .
(.....) (المويس ٢٠١٨)
- ٦ - أرض منخفضة بالصحراء تقوم فيها الزراعة على المياه الجوفية .
(.....)
- ٧ - رياح محملة بالأتربة تهب فى فصل الربيع من الصحراء الغربية .
(.....)
- ٨ - نبات طبيعى له أوراق إسفنجية تخزن المياه لفترة طويلة .
(.....)
- ٩ - نبات طبيعى يمد جذوره فى التربة لمسافات بعيدة للحصول على المياه الجوفية .
(.....)

س ٥ بم تفسر ؟

- ١ - تعد الصحراء الغربية أكبر صحارى مصر مساحة .
- ٢ - أهمية المياه الجوفية فى البيئة الصحراوية .
- ٣ - امتلاء الأودية الجافة بالمياه فى بعض الأحيان .
- ٤ - حدوث السيول فى البيئة الصحراوية .
- ٥ - لرياح الخماسين آثار سلبية عديدة .
(الفيوم ٢٠١٩)
- ٦ - لنبات الصبار أوراق إسفنجية سميكة .
(القاهرة ٢٠١٩)
- ٧ - يتميز النبات الطبيعى فى الصحراء بتحمل الجفاف .
(القليوبية ٢٠١٨)
- ٨ - يتركز النبات الطبيعى فى الأودية والمنخفضات .
- ٩ - قيام الزراعة وتركز بعض سكان البيئة الصحراوية فى الواحات .

س ٦ ما النتائج المترتبة على ما يلى ؟

- ١ - سقوط أمطار فجائية أحياناً فى البيئة الصحراوية .
(أسيوط ٢٠١٩)
- ٢ - ندرة الأمطار وانتشار الجفاف فى البيئة الصحراوية .
- ٣ - توافر المياه الجوفية فى الواحات .
- ٤ - تميز تربة الواحات بزيادة جودتها .
- ٥ - تعرض مصر لرياح الخماسين فى شهرى مارس وأبريل .
(الغربية ٢٠١٩)
- ٦ - تربة البيئة الصحراوية تربة رملية صفراء .

س ٧ ا ما العلاقة بين كل مما يأتى ؟

- ١ - الأمطار - النبات الطبيعى فى البيئة الصحراوية .
- ٢ - موارد المياه - أماكن تركيز النبات الطبيعى فى البيئة الصحراوية .

ب ماذا يحدث إذا ؟

- ١ - سقطت الأمطار بغزارة فى الصحارى المصرية .
(بورسعيد ٢٠١٩)
- ٢ - لم تتوافر مياه جوفية فى الواحات المصرية .
- ٣ - وجدت واحات فى الصحراء الشرقية .

هذا العمل خاص بموقع ذاكرولى التعليمى ولا يسمح بتداوله على مواقع أخرى



٨ صوب ما تحته خط :

٨ ص

(الجيزة / دمياط ٢٠١٩)



حل التدريب

- ١ - تربة البيئة الصحراوية تربة طينية سوداء .
- ٢ - تبلغ مساحة الصحراء الشرقية ٦٪ من مساحة مصر .
- ٣ - تهب رياح الخماسين المحملة بالرمال والأتربة من الصحراء الغربية في فصل الخريف .
- ٤ - تعرف الهضبة الجنوبية في الصحراء الغربية بهضبة مارماريكا .
- ٥ - تنتشر فوق الجبال المنخفضات والكثبان الرملية والواحات .
- ٦ - يعد جبل الشايب أعلى قمة جبلية في مصر . ٧ - يصب وادي العريش في البحر الأحمر .

ب صف هذه الظواهر الجغرافية لمناطق توزيعها حسب الجدول التالي :

- (جبل الشايب - هضبة الجلف الكبير - هضبة مارماريكا - هضبة العجمة - هضبة التيه - وادي العلاقي - وادي العريش - جبل سانت كاترين - جبل العوينات - جبل حلال - هضبة المعازة - هضبة الجلالة القبلية - واحة سيوة)

| شبه جزيرة سيناء | الصحراء الشرقية | الصحراء الغربية |
|-----------------|-----------------|-----------------|
| | | |
| | | |

ج قارن بين الصحراء الغربية والصحراء الشرقية وشبه جزيرة سيناء من حيث :

(الموقع - المساحة - الجبال - الهضاب - الأودية الجافة)

٩ ص

أمامك مجموعة من خرائط مصر الصماء، اكتب مدلول الأرقام التالية :



- ١ - الصحراء
- ٢ - منخفض
- ٣ - جبل
- ٤ - سلاسل جبال
- ٥ - هضبة
- ٦ - وادي
- ٧ - منخفض

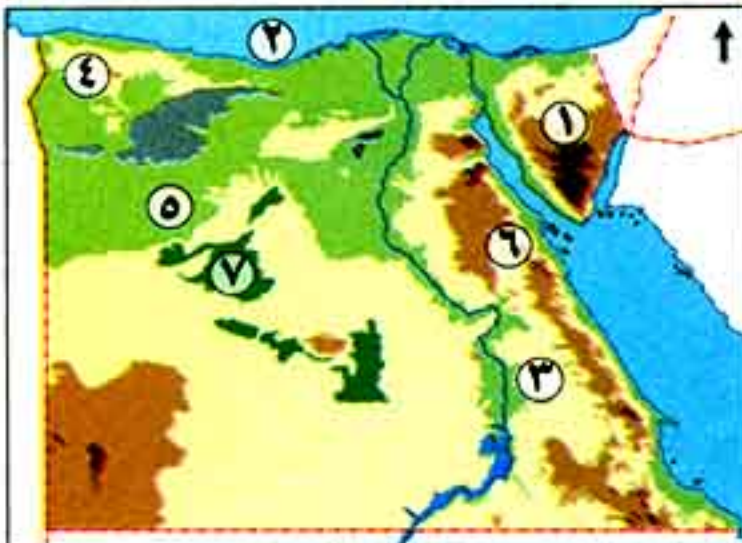
١

ب



- ١ - هضبة
- ٢ - أعلى قمة جبلية في مصر
- ٣ - قمة جبلية قباية
- ٤ - هضبة
- ٥ - الصحراء
- ٦ - كثبان رملية
- ٧ - منخفض

ج



- ١ - هضبة
- ٢ - البحر
- ٣ - هضبة
- ٤ - هضبة
- ٥ - الهضبة
- ٦ - جبل
- ٧ - منخفض



س١ اضرب ثلاثة أمثلة من خلال ما درست لكل من :

- ١ - هضاب الصحراء الغربية .
- ٢ - الحيوانات البرية .
- ٣ - واحات الصحراء الغربية .
- ٤ - هضاب الصحراء الشرقية .
- ٥ - جبال شبه جزيرة سيناء .
- ٦ - النباتات الطبيعية في الصحراء .
- ٧ - الأودية الجافة في مصر .

(يجب عنه التلميذ)



سد الروافعة على وادي العريش

(قام شاب بإقامة مشروع في مجرى وادي العريش)

على ضوء ذلك حدد ما يلي:



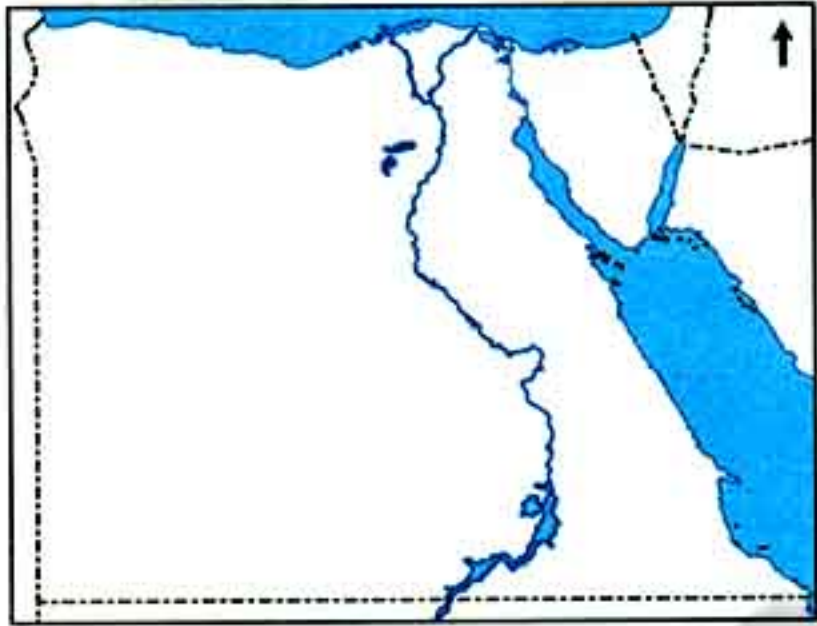
- ١ الخطأ الذي قام به.
- ٢ الخطر الذي يمكن أن يواجهه.
- ٣ ما النصيحة التي تقدمها له ؟ وكيف يزيل هذا الخطر ؟

Ra Nia SaYed



(يجب عنه التلميذ)

اختبار على الدرس الأول



- س ١ أ على خريطة مصر الصماء التي أمامك وباستخدام الألوان، لَوْن مناطق البيئة الصحراوية في مصر باللون الأصفر ثم سجل أسماءها على الخريطة.
- ب ما المقصود بالمصطلحات الجغرافية الآتية ؟
(البيئة الصحراوية - الأودية الجافة - الواحات - المنخفضات - الكثبان الرملية) .



(سوماج ٢٠١٩)

- س ٢ أ ضع دائرة حول الكلمة التي لا تنتمي للمجموعة :
- ١ - العباددة - المعازة - التيه - الجلالة البحرية .
 - ٢ - وادى قنا - وادى العلاقى - وادى العريش - الجلف الكبير .
 - ٣ - النخيل - الدوم - الصبار - الأرز .



ب بم تفسر ؟

- ١ - تركز النبات الطبيعي في الواحات والأودية الجافة .
- ٢ - تمد بعض النباتات الطبيعية جذورها في التربة لمسافات بعيدة .

س ٣ أ اكتب كلمة (صواب) أمام العبارة الصحيحة، وكلمة (خطأ) أمام العبارة غير الصحيحة ، مع التصويب :

- ١ - تهب رياح الخماسين في فصل الشتاء . ()
- ٢ - تقع الصحراء الشرقية ما بين ساحل البحر المتوسط شمالاً والبحر الأحمر جنوباً . ()
- ٣ - لنبات الصبار أوراق إسفنجية سميكة . ()



ب دلل جغرافياً على صحة العبارات التالية :

- ١ - تختفى ظاهرة المنخفضات من الصحراء الشرقية .
- ٢ - تتنوع مظاهر السطح في الصحراء الغربية .

س ٤ أ صوب ما تحته خط :

- ١ - من الحيوانات البرية التي تتحمل الجفاف الجاموس والأبقار .
- ٢ - تتسم تربة البيئة الصحراوية بأنها تربة طينية سوداء .



ب قارن بين :

- ١ - مناخ البيئة الصحراوية صيفاً - مناخ البيئة الصحراوية شتاءً .
- ٢ - الجزء الجنوبي والجزء الشمالي من شبه جزيرة سيناء ، من حيث أهم الجبال في كل منهما .



مجاب
عنها
٢٦٨

أولاً : تدريبات الكتاب المدرسي على الدرس الثاني

س١ : أكمل العبارات الآتية بكلمات مناسبة :

- ١ - يتركز سكان البيئة الصحراوية في ، ومناطق وحيث يتوافر
- ٢ - من الخصائص الاقتصادية لسكان البيئة الصحراوية
- ٣ - يهاجر بعض سكان البيئة الصحراوية إلى البيئات الأخرى بسبب ، و

س٢ : بم تفسر ؟:

- ١ - قلة عدد سكان البيئة الصحراوية رغم اتساع مساحتها .
- ٢ - انخفاض نسبة الأمية تدريجياً في المحافظات الصحراوية مؤخراً .
- ٣ - تركيز سكان البيئة الصحراوية في الواحات .
- ٤ - ارتفاع نسبة الوفيات بين أطفال البيئة الصحراوية .
- ٥ - اعتماد البيئة الصحراوية على البيئات الأخرى .

س٣ : اكتب كلمة (صواب) أمام العبارة الصحيحة، وكلمة (خطأ) أمام العبارة غير الصحيحة مع التصويب :

- ١ - يعيش سكان البيئة الصحراوية في محافظات الحدود . ()
- ٢ - يعمل معظم سكان البيئة الصحراوية بحرفتي الرعي والزراعة . ()
- ٣ - يتميز سكان البيئة الصحراوية بإكرام الضيف . ()
- ٤ - يعاني سكان البيئة الصحراوية من وفرة الموارد . ()


س٤ : دلل جغرافياً على صحة العبارة الآتية :

تهتم الدولة بنشر التعليم بين أبناء البيئة الصحراوية .

ساعد أحمد في الوصول لإحدى العادات الإيجابية لسكان البيئة الصحراوية :



- الزواج المبكر
- إكرام الضيف
- العلاج بوسائل بدائية





حل التدريب



مجاب عنها ٣٦٨

ثانياً : تدريبات سلاح التلميذ على الدرس الثاني

س ١ : أكمل العبارات التالية بما يناسبها من كلمات :

- ١ - يعيش سكان البيئة الصحراوية في خمس محافظات تعرف باسم
- ٢ - تعد محافظة أكثر المحافظات الصحراوية سكاناً .
(القاهرة ٢٠١٨)
- ٣ - يرأس المجالس العرفية في البيئة الصحراوية
- ٤ - يتركز سكان البيئة الصحراوية في ، ومناطق ، ومناطق توافر
- ٥ - من جهود الدولة لحل مشكلات التعليم ، إقامة العديد من
- ٦ - من الخصائص الاقتصادية لسكان البيئة الصحراوية
- ٧ - الترابط الأسرى في البيئة الصحراوية من الخصائص
- ٨ - من العادات الإيجابية لسكان البيئة الصحراوية بينما الزواج المبكر من العادات
- ٩ - يهاجر بعض سكان البيئة الصحراوية إلى البيئات الأخرى بسبب
- ١٠ - العلاج بوسائل بدائية يؤدي لزيادة الوفيات خاصة بين في البيئة الصحراوية .
(السويس ٢٠١٩)
- ١١ - من الخصائص التعليمية لسكان البيئة الصحراوية
- ١٢ - يعمل معظم سكان المحافظات الصحراوية بحرفتي و

س ٢ : اختر الإجابة الصحيحة مما بين القوسين :

- ١ - من المحافظات الصحراوية في مصر
(مطروح - الوادي الجديد - جنوب سيناء - كل ما سبق)
(بنر سويف ٢٠١٩)
- ٢ - أكثر محافظات البيئة الصحراوية سكاناً محافظة
- ٣ - من الخصائص الاجتماعية لسكان البيئة الصحراوية
- ٤ - ارتفاع نسبة الأمية - احترام المجالس العرفية - انخفاض مستوى المعيشة - قلة الموارد
(من العادات السلبية لسكان البيئة الصحراوية)
- ٥ - (إكرام الضيف - الحفاظ على العادات والتقاليد - الترابط الأسرى - عمالة الأطفال)
٥ - يعمل معظم سكان البيئة الصحراوية بحرفة (التجارة - الصناعة - الرعى - صيد الأسماك)
- ٦ - مشكلة نقص الغذاء من الخصائص لسكان البيئة الصحراوية .
(التعليمية - الاقتصادية - الاجتماعية - السياسية)
- ٧ - يتركز سكان البيئة الصحراوية في الواحات بسبب وجود
- ٧ - (نهر النيل - المياه الجوفية - الأمطار الشتوية - البحر الأحمر)

س ٣ : اكتب كلمة (صواب) أمام العبارة الصحيحة، وكلمة (خطأ) أمام العبارة غير الصحيحة مع التصويب :

- ١ - من مناطق تركيز السكان في البيئة الصحراوية مناطق التعدين واستخراج البترول . ()
- ٢ - يعيش سكان البيئة الصحراوية في محافظات الدلتا . ()
(الغربية ٢٠١٩)

هذا العمل خاص بموقع ذاكرولى التعليمي ولا يسمح بتداوله على مواقع أخرى



- ٣ - من العادات الإيجابية لسكان البيئة الصحراوية عمل الأطفال في الرعى والزراعة . ()
- ٤ - يعمل معظم سكان البيئة الصحراوية بحرفتي الزراعة وصيد الأسماك . (الدقهلية ٢٠١٩) ()
- ٥ - يعتمد سكان الواحات على المياه الجوفية في الزراعة . ()
- ٦ - يتميز سكان البيئة الصحراوية بإكرام الضيف . (الجيزة ٢٠١٩) ()
- ٧ - يتركز سكان البيئة الصحراوية في مناطق الرعى حيث العشب والماء . ()
- ٨ - يعاني سكان البيئة الصحراوية من قلة الموارد الطبيعية . (الغربية ٢٠١٩) ()
- ٩ - تنخفض نسبة الأمية في المحافظات الصحراوية . ()
- ١٠ - العلاج بالوسائل البدائية من العادات الإيجابية لسكان البيئة الصحراوية . ()



حل التدريب

س ٤ بم تفسر؟

- ١ - تسمية محافظات الحدود بهذا الاسم . (الشرقية ٢٠١٩) ()
- ٢ - تركيز سكان البيئة الصحراوية في الواحات . (القاهرة ٢٠١٩) ()
- ٣ - قلة عدد سكان البيئة الصحراوية رغم اتساع مساحتها . (الفيوم ٢٠١٩) ()
- ٤ - اعتماد سكان البيئة الصحراوية على البيئات الأخرى . ()
- ٥ - هجرة بعض سكان البيئة الصحراوية إلى البيئات الأخرى . ()
- ٦ - انخفاض نسبة الأمية تدريجياً مؤخراً في المحافظات الصحراوية . ()
- ٧ - ارتفاع نسبة الوفيات بين أطفال البيئة الصحراوية . ()
- ٨ - يعاني سكان البيئة الصحراوية من مشكلات اقتصادية عديدة . ()

س ٥ ما النتائج المترتبة على ما يلي؟

- ١ - وفرة المياه الجوفية في الواحات . (الدقهلية ٢٠١٨) ()
- ٢ - إقامة الدولة العديد من المدارس وبعض الكليات والمعاهد بالمحافظات الصحراوية . (الإسكندرية ٢٠١٩) ()
- ٣ - قلة الموارد الطبيعية في البيئة الصحراوية . ()
- ٤ - استخدام وسائل العلاج البدائية في البيئة الصحراوية . ()
- ٥ - تعمير الصحراء واستصلاح الأراضي . ()
- ٦ - جهود الدولة في مجال التعليم في البيئة الصحراوية . (الجيزة ٢٠١٩) ()

س ٦ صوب ما تحته خط :

- ١ - يعيش عدد كبير من سكان مصر في البيئة الصحراوية . (البحيرة ٢٠١٩) ()
- ٢ - ارتفاع نسبة الأمية من الخصائص الاجتماعية لسكان البيئة الصحراوية . (بورسعيد ٢٠١٨) ()
- ٣ - إكرام الضيف والزواج المبكر من الخصائص التعليمية لسكان البيئة الصحراوية . ()
- ٤ - من العادات السلبية لسكان البيئة الصحراوية احترام المجالس العرفية . ()
- ٥ - يعمل معظم سكان البيئة الصحراوية بحرفتي صيد الأسماك والزراعة . (المنوفية ٢٠١٩) ()
- ٦ - يعمل سكان الواحات بالصناعة اعتماداً على المياه الجوفية . ()
- ٧ - من جهود الدولة لحل مشكلة التعليم إقامة المستشفيات . ()

هذا العمل خاص بموقع ذاكرولى التعليمي ولا يسمح بتداوله على مواقع أخرى



س٧ ماذا يحدث إذا؟

(الفيوم ٢٠١٩)

- ١ - لم تهتم الدولة بإنشاء المدارس في البيئة الصحراوية .
- ٢ - لم تتوافر الموارد الطبيعية في البيئة الصحراوية .
- ٣ - توافرت الرعاية الصحية في البيئة الصحراوية .

(البحيرة ٢٠١٩)

س٨ ا قارن بين : العادات الإيجابية والسلبية لسكان البيئة الصحراوية .

ب دلل جغرافياً على صحة العبارات التالية :

- ١ - تبذل الدولة العديد من الجهود لحل مشكلات التعليم في البيئة الصحراوية .
- ٢ - ليست كل عادات البيئة الصحراوية عادات سلبية .

ج وضح : جهود الدولة لحل المشكلات الاقتصادية والاجتماعية في البيئة الصحراوية .

د أمامك خريطة صماء لمصر ، اكتب

مدلول الأرقام التالية :

- ١ - أكثر المحافظات الصحراوية سكاناً
- ٢ - سلاسل جبال
- ٣ - منخفض
- ٤ - منخفض
- ٥ - هضبة
- ٦ - محافظة صحراوية



(يجب عنه التلميذ)

صف خصائص سكان البيئة الصحراوية مستخدماً المخطط التالي :

نم

مهاراتك

خصائص سكان البيئة الصحراوية

الخصائص
الاقتصاديةالخصائص
الاجتماعيةالخصائص
التعليمية

.....

.....

.....

.....

.....

.....

.....

.....

.....



(يجب عنه التلميذ)

اختبار على ما سبق

١ أمامك خريطة صماء لمصر ، اكتب مدلول الأرقام الموقعة عليها :



- ١ - هضبة
 ٢ - سلاسل جبال
 ٣ - الصحراء
 ٤ - جبل
 ٥ - محافظة

ب بم تفسر ؟



- ١ - قلة النبات الطبيعي في البيئة الصحراوية .
 ٢ - انخفاض نسبة الأمية مؤخرًا في البيئة الصحراوية .

١ اكتب كلمة (صواب) أمام العبارة الصحيحة ، وكلمة (خطأ) أمام العبارة غير الصحيحة ، مع التصويب :

- ١ - يعتمد سكان الواحات على مياه الأمطار في الزراعة .
 ٢ - يعد جبل سانت كاترين أعلى قمة جبلية في مصر .
 ٣ - من أسباب هجرة سكان البيئة الصحراوية للبيئات الأخرى زيادة الموارد الطبيعية .
 ٤ - الحفاظ على التقاليد من العادات السلبية لسكان البيئة الصحراوية .

ب أجب عما يأتي : وضع جهود الدولة لحل المشكلات الاقتصادية في البيئة الصحراوية .

١ أكمل العبارات التالية بكلمات مناسبة :

- ١ - تمتد الصحراء الغربية من و شرقًا حتى الحدود المصرية الليبية
 ٢ - يقع جبل العوينات في مصر ، ويمتد في كل من ، ،
 ٣ - يتركز سكان البيئة الصحراوية في محافظات
 ٤ - من الآثار السلبية التي تسببها الأمطار الفجائية

ب ما النتائج المترتبة على : هبوب رياح الخماسين من الصحراء الغربية في فصل الربيع ؟

١ صوب ما تحته خط :



- ١ - من الحيوانات البرية في البيئة الصحراوية الأبقار والجاموس .
 ٢ - تعد محافظة مطروح أكثر المحافظات الصحراوية سكانًا .
 ٣ - تختفى ظاهرة المنخفضات من الصحراء الغربية .

ب ما المقصود بالمصطلح الجغرافي : الكثبان الرملية - محافظات الحدود ؟



أولاً : تدريبات الكتاب المدرسي على الدرس الأول

س ١ : أكمل العبارات التالية بكلمات مناسبة :

- ١ - أسس الحزب الوطني عام ١٩٠٧ م .
- ٢ - دعا الزعيم لإنشاء مجلس نيابي بمصر .
- ٣ - اهتم محمد فريد بالتعليم وأنشأ المدارس لتعليم العمال .

س ٢ : اكتب كلمة (صواب) أمام العبارة الصحيحة ، وكلمة (خطأ) أمام العبارة غير الصحيحة ، مع التصويب :

- ١ - التحق أحمد عرابي بالجيش المصري في عهد سعيد باشا . ()
- ٢ - طالب أحمد عرابي بالمساواة بين أبناء مصر وغيرهم من باقي الأجناس . ()
- ٣ - وقفت فرنسا إلى جانب الحركة الوطنية المصرية بعد الاتفاق الودي عام ١٩٠٤ م . ()
- ٤ - أدت الامتيازات الأجنبية إلى التدخل الأجنبي في شئون مصر . ()

س ٣ : اختر الإجابة الصحيحة مما بين الأقواس :

- ١ - بدأ تجنيد أولاد عمد البلاد ومشايخها في عهد
(سعيد باشا - الخديو إسماعيل - الخديو توفيق - إبراهيم باشا)
- ٢ - قاد مظاهرة عابدين السلمية في سبتمبر عام ١٨٨١ م .
(محمود سامي البارودي - أحمد عرابي - علي الروبي - محمد عبيد)
- ٣ - قام مصطفى كامل بتأسيس جريدة عام ١٩٠٠ م .
(الوقائع المصرية - المؤيد - اللواء - الأهرام)

س ٤ : بم تفسر ؟ :

- ١ - قيام الثورة العرابية .
- ٢ - ازدياد التدخل الأجنبي في شئون مصر .
- ٣ - التفاف الجيش والشعب حول أحمد عرابي .
- ٤ - اتصال مصطفى كامل بالدول الأوروبية .

س ٥ : اكتب ثلاثة أسطر عن :

- دور كل من مصطفى كامل ومحمد فريد في مقاومة الاحتلال البريطاني .

.....

.....

.....

هذا العمل خاص بموقع ذاكرولى التعليمي ولا يسمح بتداوله على مواقع أخرى

محتب
عنها

ثانياً : تدريبات سلاح التلميذ على الدرس الأول

س١ أكمل العبارات التالية بما يناسبها من كلمات :

- ١ - انضم أحمد عرابى إلى الجيش فى عهد وترقى إلى رتبة أميرآلى فى عهد
- ٢ - بدأ أحمد عرابى كفاحه منذ عهد الخديو
- ٣ - كان أحمد عرابى عضواً بارزاً فى الجمعية السرية
- ٤ - ازداد التدخل الأجنبى فى مصر نتيجة التى منحتها الدولة العثمانية للرعايا الأجانب .
- ٥ - من أسباب التدخل الأجنبى فى مصر إنشاء إنجليزية فرنسية .
- ٦ - كان الحاكم الفعلى للبلاد أثناء الاحتلال البريطانى لمصر هو
- ٧ - احتلت مصر فى ١٤ سبتمبر ١٨٨٢م بعد هزيمة المصريين فى معركة
- ٨ - قاد أحمد عرابى مظاهرة فى سبتمبر عام ١٨٨١م .
- ٩ - أسس الزعيم مصطفى كامل عام ١٩٠٠م جريدة
- ١٠ - أسس الحزب الوطنى عام ١٩٠٧م .
- ١١ - ساءت أحوال المصريين الاقتصادية فى عهد وزارة
- ١٢ - قامت بريطانيا بتحويل مصر إلى قاعدة لتزويد الصناعة البريطانية ب
- ١٣ - تخلت حكومة فرنسا عن تأييدها لمصطفى كامل بعد عقد مع إنجلترا عام ١٩٠٤م .
- ١٤ - دعا محمد فريد إلى الاحتلال البريطانى عن مصر .
- ١٥ - عُزل اللورد كرومر من منصبه عقب حادثة
- ١٦ - رفض مد امتياز شركة قناة السويس عام ١٩١٠م .
- ١٧ - طالب عرابى فى مظاهرة عابدين بزيادة عدد إلى ١٨٠٠٠ جندى .
- ١٨ - بدأت بريطانيا بضرب مدينة فى يوليو ١٨٨٢م .

س٢ اكتب كلمة (صواب) أمام العبارة الصحيحة، وكلمة (خطأ) أمام العبارة غير الصحيحة مع التصويب :

- ١ - أدت الامتيازات الأجنبية إلى زيادة التدخل الأجنبى فى شئون مصر . ()
- ٢ - طالب أحمد عرابى بالمساواة بين أبناء مصر وغيرهم من الأجناس الأخرى . ()
- ٣ - من أسباب الثورة العرابية تسريح الكثير من الجنود والضباط المصريين . ()
- ٤ - نجحت القوات البريطانية فى دخول مصر عن طريق كفر الدوار . ()
- ٥ - وقفت فرنسا إلى جانب الحركة الوطنية المصرية بعد الاتفاق الودى عام ١٩٠٤م . ()
- ٦ - من مطالب مظاهرة عابدين إسقاط وزارة راغب باشا المستبدة . ()
- ٧ - قرر الخديو توفيق إقالة أحمد عرابى ناظر الجهادية بعد ضرب الإسكندرية . ()
- ٨ - ساعدت حُطب ومقالات مصطفى كامل على تجدد الشعور الوطنى لدى المصريين . ()
- ٩ - دعا محمد فريد إلى إنشاء المدارس الليلية لتعليم العمال والفقراء مجاناً . ()



حل التدريب



- ١٠ - بدأ أحمد عرابي كفاحه ضد استبداد النظام التركي والجرمسي منذ عهد سعيد باشا. ()
- ١١ - دعا ديليسبس إلى تأسيس حكومة وطنية مستقلة. ()
- ١٢ - أسس مصطفى كامل جريدة الوقائع المصرية عام ١٩٠٠م. (المنيا ٢٠١٩)
- ١٣ - ترقى أحمد عرابي في الجيش المصري حتى وصل لرتبة أميرالاي. ()
- ١٤ - احتلت إنجلترا قناة السويس بعد خيانة ديليسبس لعرابي. ()
- ١٥ - اتبعت بريطانيا سياسة السيطرة على كل مرافق مصر وألغت المراقبة الثنائية. ()

اختر الإجابة الصحيحة مما بين القوسين :

- ١ - أسس مصطفى كامل عام ١٩٠٠م جريدة (الجيزة ٢٠١٩)
- ٢ - فشلت القوات البريطانية في دخول مصر عن طريق عام ١٨٨٢م. (الوقائع المصرية - الوفد - الأهرام - اللواء)
- ٣ - رفض مشروع مد امتياز شركة قناة السويس عام ١٩١٠م. (كفر الدوار - التل الكبير - كفر الزيات - الإسكندرية)
- ٤ - كان أحمد عرابي عضواً بارزاً في جمعية (مصطفى كامل - طلعت حرب - محمد فريد - أحمد عرابي)
- ٥ - دخل الإنجليز في ١٤ سبتمبر ١٨٨٢م بعد معركة التل الكبير. (الجامعة المصرية - الوفد المصري - مصر الفتاة - عابدين)
- ٦ - تم عزل اللورد كرومر من منصبه عقب حادثة (الإسكندرية - السويس - الإسماعيلية - القاهرة)
- ٧ - خرج الجيش والشعب في ٩ سبتمبر ١٨٨١م لتقديم مطالب الأمة إلى (القلوبية ٢٠١٨)
- ٨ - حدثت الثورة العرابية في عهد الخديو (الإسكندرية - أبي قير - دنشواي - كفر الدوار)
- ٩ - بعد الاحتلال البريطاني لمصر أصبح الحاكم الفعلي للبلاد هو (الخديو - المعتمد البريطاني - أحمد عرابي - ديليسبس)
- ١٠ - من مطالب الأمة في مظاهرة عابدين سبتمبر ١٨٨١م إسقاط وزارة (الجيزة ٢٠١٩)
- ١١ - يعد من الزعامات الوطنية التي شاركت أحمد عرابي في الثورة العرابية. (شريف باشا - رياض باشا - سعيد باشا - نوبار باشا)
- ١٢ - من أسباب التدخل الأجنبي في مصر (مصطفى كامل - محمود سامي البارودي - محمد فريد - سعد زغلول)
- ١٣ - عقدت الاتفاق الودي عام ١٩٠٤م. (المراقبة الثنائية - القروض - الامتيازات الأجنبية - كل ما سبق)
- (إنجلترا وفرنسا - إنجلترا وروسيا - فرنسا وألمانيا - إنجلترا وأمريكا)

هذا العمل خاص بموقع ذاكرولي التعليمي ولا يسمح بتداوله على مواقع أخرى



٤ س اكتب المفهوم التاريخي الذي تشير إليه العبارات التالية :

- ١ - ممثل الاحتلال البريطاني في مصر والحاكم الفعلي للبلاد . (.....)
- ٢ - جريدة أسسها مصطفى كامل لتكشف مزاعم الاحتلال البريطاني في مصر . (.....)
- ٣ - اتفاق عُقد بين فرنسا وإنجلترا عام ١٩٠٤ م . (.....)
- ٤ - جمعية سرية شارك أحمد عرابي في تأسيسها . (.....)

٥ س بم تفسر ؟ :

- ١ - سوء الأحوال الاقتصادية للمصريين في عهد وزارة رياض باشا . (السويس ٢٠١٩)
- ٢ - قيام الثورة العرابية .
- ٣ - اتصال مصطفى كامل بالدول الأوروبية . (الفيوم ٢٠١٩)
- ٤ - ازدياد التدخل الأجنبي في شئون مصر .
- ٥ - تدبير إنجلترا بعض الحوادث في مدينة الإسكندرية .
- ٦ - تخلى الحكومة الفرنسية عن الحركة الوطنية المصرية .
- ٧ - دعوة محمد فريد لتأسيس مدارس ليلية .
- ٨ - احتلال القوات البريطانية قناة السويس .
- ٩ - تأسيس مصطفى كامل لجريدة اللواء .
- ١٠ - تحويل مصر إلى قاعدة زراعية أثناء الاحتلال البريطاني .
- ١١ - إلزام مصر بدفع تعويض لإنجلترا بعد احتلالها لمصر . (أسوان ٢٠١٩)

٦ س ما النتائج المترتبة على ما يلي ؟ :

- ١ - خطب ومقالات مصطفى كامل . (الجزيرة ٢٠١٩)
- ٢ - معركة التل الكبير سبتمبر ١٨٨٢ م .
- ٣ - الاتفاق الودي بين إنجلترا وفرنسا عام ١٩٠٤ م . (كفر الشيخ ٢٠١٨)
- ٤ - كفاح الزعيم مصطفى كامل . (البحيرة ٢٠١٨)
- ٥ - مظاهرة عابدين السلمية في ٩ سبتمبر عام ١٨٨١ . (سوهاج ٢٠١٩)
- ٦ - فشل القوات البريطانية في دخول مصر عن طريق كفر الدوار ١٨٨٢ م . (أسيوط ٢٠١٨)
- ٧ - حادثة دنشواي ١٩٠٦ م .
- ٨ - ضرب إنجلترا لمدينة الإسكندرية .
- ٩ - الاحتلال البريطاني لمصر .
- ١٠ - فرض ضرائب فادحة على المصريين في عهد وزارة رياض باشا .
- ١١ - قيام سلطات الاحتلال بتضييق الخناق على محمد فريد .
- ١٢ - اتصال مصطفى كامل بالدول الأوروبية .
- ١٣ - تأمر الخديو توفيق وأتباعه على الحركة الوطنية .

هذا العمل خاص بموقع ذاكرولى التعليمي ولا يسمح بتداوله على مواقع أخرى



٧ س | من هو ؟ :

- ١ - ترقى حتى وصل لرتبة أميرآلى فى عهد الخديو توفيق . (الجيزة ٢٠١٨) (.....)
- ٢ - رفض مشروع مد امتياز قناة السويس عام ١٩١٠ م . (الجيزة ٢٠١٩) (.....)
- ٣ - أسس جريدة اللواء عام ١٩٠٠ م . (.....)
- ٤ - أسس الحزب الوطنى المصرى عام ١٩٠٧ م . (.....)
- ٥ - قاد مظاهرة عابدين السلمية وعرض مطالب الأمة على الخديو توفيق . (.....)
- ٦ - دعا لإنشاء مدارس ليلية لتعليم العمال والفقراء مجاناً . (.....)
- ٧ - عزل أحمد عرابى من وزارة الحربية بعد ضرب مدينة الإسكندرية . (.....)
- ٨ - ممثل الاحتلال البريطانى فى مصر والحاكم الفعلى للبلاد آنذاك . (.....)

ب قارن بين كل من : مصطفى كامل ومحمد فريد من حيث : أهم الأعمال .

ح دلل تاريخياً على صحة العبارات التالية :

- ١ - عمل محمد فريد على مد نشاط الحركة الوطنية إلى أوروبا . (المنوفية ٢٠١٨)
- ٢ - لم تخل الثورة العرابية من زعامات وطنية غير أحمد عرابى .

د ماذا كان سيحدث إذا : لم يتم توقيع الاتفاق الودى بين إنجلترا وفرنسا ؟

ه رتب الأحداث التالية من الأقدم إلى الأحدث :

- (الاتفاق الودى - مظاهرة عابدين السلمية - رفض مشروع مد امتياز قناة السويس - الاحتلال البريطانى لمصر)

و وضع ما يلى :

- ١ - مطالب أحمد عرابى من الخديو توفيق فى مظاهرة عابدين السلمية .
- ٢ - السياسة البريطانية فى مصر للسيطرة على كل مرافق البلاد .

ز ما العلاقة بين كل من : ديليسبس والاحتلال البريطانى لمصر ؟

٨ س | صوب ما تحته خط :

- ١ - احتلت القوات البريطانية قناة السويس بعد خيانة رياض باشا لعرابى . (القاهرة ٢٠١٨)
- ٢ - طالب أحمد عرابى فى مظاهرة عابدين بإسقاط وزارة شريف باشا المستبدة . (الإسكندرية ٢٠١٩)
- ٣ - تخلت إنجلترا عن مساندة الحركة الوطنية المصرية بعد عقد الاتفاق الودى عام ١٩٠٤ م .
- ٤ - احتل الإنجليز القاهرة بعد معركة كفر الدوار فى سبتمبر ١٨٨٢ م . (القيوم ٢٠١٩)
- ٥ - عقدت تركيا مع إنجلترا ما عرف بالاتفاق الودى عام ١٩٠٤ م . (القاهرة ٢٠١٩)
- ٦ - من الزعامات الوطنية الذين شاركوا فى الثورة العرابية مصطفى كامل ومحمد فريد .
- ٧ - انضم أحمد عرابى للجيش المصرى فى عهد الخديو إسماعيل .
- ٨ - أسس محمد فريد الحزب الوطنى المصرى عام ١٩٠٧ م .

هذا العمل خاص بموقع ذاكرولى التعليمى ولا يسمح بتداوله على مواقع أخرى

اختبار على
الدرس الأول

(يجيب عنه التلميذ)



س ١ | أكمل العبارات التالية بما يناسبها من كلمات :

- ١ - ترقى أحمد عرابي في الجيش المصري حتى وصل لرتبة في عهد
 - ٢ - تولى زعامة الحركة الوطنية في أواخر القرن ١٩ م .
 - ٣ - قامت بريطانيا بإلغاء الذي عاصر الثورة العرابية .
 - ٤ - دعا محمد فريد لتأسيس مستقلة .
- ب حدد : مطالب المصريين في مظاهرة عابدين السلمية .

س ٢ | اكتب كلمة (صواب) أمام العبارة الصحيحة ، وكلمة (خطأ) أمام العبارة غير الصحيحة مع التصويب :

- ١ - طالب أحمد عرابي بالمساواة بين أبناء مصر وغيرهم من باقي الأجناس . ()
- ٢ - خفضت بريطانيا الإنفاق الحكومي في مصر خاصة في ميزانية التعليم والصحة . ()
- ٣ - رفض ديليسبس مرور القوات البريطانية من قناة السويس . ()
- ٤ - عقد الاتفاق الودي بين إنجلترا وفرنسا عام ١٩٠٤ م . ()

ب ماذا كان سيحدث إذا :

لم يتأمر الخديو توفيق وأتباعه على الحركة الوطنية في مصر ؟

س ٣ | ا ب م تفسر ؟ :

- ١ - عزل المعتمد البريطاني في مصر من منصبه .
- ٢ - قيام الثورة العرابية .
- ٣ - مد محمد فريد نشاط الحركة الوطنية إلى أوروبا .

(القاهرة ٢٠١٩)

ب دلل تاريخيًا على صحة العبارة التالية :

كان لمصطفى كامل دور عظيم في مقاومة الاحتلال البريطاني .

س ٤ | ا اختر الشخصية المناسبة من العمود (أ) أمام ما يناسبها من العمود (ب) :

ب

١ - قام بإقالة أحمد عرابي من الوزارة .
٢ - انضم للجيش المصري في عهد سعيد باشا .
٣ - دعا إلى إنشاء مدارس ليلية لتعليم الفقراء والعمال مجانًا .
٤ - أسس جريدة اللواء عام ١٩٠٠ م .

ا

١ - محمد فريد .
٢ - مصطفى كامل .
٣ - الخديو توفيق .
٤ - رياض باشا .
٥ - أحمد عرابي .

ب قارن بين : معركة التل الكبير - معركة كفر الدوار من حيث النتائج .

تدريبات الأضواء الشاملة على الدرس

مجاب عنها
2EP ص

أمامك خريطة صماء لجمهورية مصر العربية، اكتب ما تشير إليه الأرقام:



- ١- هضبة
- ٢- الصحراء
- ٣- جبل
- ٤- هضبة
- ٥- دولة

أكمل العبارات التالية بكلمات مناسبة:

- (أ) يسود في البيئة الصحراوية نتيجة لقلة المطر.
- (ب) تبلغ مساحة الصحراء ٢٢٪ من مساحة مصر، بينما تبلغ مساحة ٦٪.
- (ج) توجد هضبة شمال الصحراء الغربية، وهضبة في جنوبها.
- (د) تمتد سلاسل جبال البحر الأحمر من الشمال الغربي إلى، وأكثرها ارتفاعاً جبل (القبليية)
- (هـ) يوجد جبل موسى في شبه (جنوب سيناء)
- (و) تهب الرياح المحملة بالأتربة على الوادي والدلتا في فصل وتعرف باسم (السياب)
- (ز) التربة في البيئة الصحراوية تربة (الشرقية)
- (ح) تشمل موارد المياه بالبيئة الصحراوية على المياه الجوفية و (الإسكندرية)
- (ط) يمتد جبل في مصر وليبيا والسودان.

اكتب كلمة (صواب) أمام العبارات الصحيحة، وكلمة (خطأ) أمام العبارات غير الصحيحة فيما يلي:

- (أ) تبلغ مساحة الصحراء الغربية نحو ٦٨٪ من مساحة مصر. (القاهرة)
- (ب) تعد الصحراء الشرقية أكبر صحارى مصر مساحة. (الإسكندرية)
- (ج) تعرف الهضبة الجنوبية في الصحراء الغربية بهضبة الجلف الكبير. ()
- (د) تقع الصحراء الشرقية ما بين البحر المتوسط شمالاً وخليج العقبة والسويس جنوباً. ()
- (هـ) تتميز الصحراء الغربية بوجود المنخفضات والكثبان الرملية. ()
- (و) تختفى ظاهرة المنخفضات من سطح الصحراء الغربية. ()
- (ز) تمتد الصحراء الشرقية من وادي النيل والدلتا شرقاً حتى الحدود المصرية الليبية غرباً. (الوادي الجديد)
- (ح) يعد جبل سانت كاترين أعلى قمة جبلية في مصر. ()
- (ط) جبل الشايب أكثر جبال شبه جزيرة سيناء ارتفاعاً. ()
- (ي) جبل الشايب من أشهر جبال الصحراء الغربية. ()
- (ك) هضبة مارماريكا توجد في الصحراء الغربية. ()
- (ل) تتعرض البيئة الصحراوية لرياح الخماسين في فصل الشتاء. ()

- (م) يتميز مناخ البيئة الصحراوية بانخفاض درجة الحرارة في فصل الصيف. (مطروح ٢٠١٦)
- (ن) تهب الرياح المحملة بالأتربة من الصحراء الغربية بمصر في فصل الربيع وتعرف برياح السموم. ()
- (س) يعتمد سكان الواحات على المياه الجوفية في الزراعة. (أسبوط ٢٠١٦)
- (ع) العيون هي المياه التي تصل تلقائياً إلى سطح الأرض. ()
- (ف) يتوافر النبات الطبيعي في البيئة الصحراوية في الأودية. ()
- (ص) نباتات البيئة الصحراوية إبرية شوكية، لا تتحمل الجفاف. ()
- (ق) يوجد جبل العوينات في شمال غرب مصر. (الغربية ٢٠١٨)

اختر الإجابة الصحيحة مما بين الأقواس:

- (أ) تبلغ مساحة ٦٨٪ من مساحة مصر. (وادي النيل - شبه جزيرة سيناء - الصحراء الغربية - الصحراء الشرقية)
- (ب) يقع جبل في الركن الجنوبي الغربي من الصحراء الغربية. (الشايب - حماطة - علبة - العوينات)
- (ج) تقوم الزراعة في البيئة الصحراوية على مياه (النيل - الترع - الآبار والعيون - البحار) (القاهرة ٢٠١٩)
- (د) توجد هضبة مارماريكا في شمال (الصحراء الشرقية - الصحراء الغربية - شبه جزيرة سيناء - الصحراء الغربية) (القاهرة ٢٠١٩)
- (هـ) أشهر الأودية الحافة في سيناء وادي (العلاقي - حوف - العريش - النيل)
- (و) يجد صحراء مصر الغربية من جهة الشرق (وادي النيل - البحر الأحمر - البحر المتوسط - السودان) (قنا ٢٠١٨)
- (ز) من جبال شبه جزيرة سيناء جبل (الشايب - موسى - علبة - العوينات) (قنا ٢٠١٨)
- (ح) الجبل الذي يقع معظمه خارج حدود مصر جبل (حماطة - علبة - العوينات - الشايب) (المنوفية ٢٠١٨)
- (ط) تبلغ مساحة نحو ٦٪ من مساحة مصر. (الصحراء الغربية - الصحراء الشرقية - شبه جزيرة سيناء - الصحارى المصرية) (الجيزة ٢٠١٨)

اكتب المصطلح الجغرافي الذي تشير إليه العبارات التالية:

- (أ) منطقة يقل فيها المطر ويسود فيها الجفاف. (الشرقية ٢٠١٩)
- (ب) مجار مائية كانت تجرى بها المياه قديماً ثم جفت. (سوهاج - الإسماعيلية ٢٠١٩)
- (ج) تجمعات من الرمال تتراكم بفعل الرياح. (السويس ٢٠١٨، الأقصر ٢٠١٩)
- (د) جزء من الأرض يقل مستواه عن الأراضي المحيطة به. (الغربية - دهباط ٢٠١٨)
- (هـ) أرض منخفضة في الصحراء تقوم بها الزراعة على المياه الجوفية. (الجيزة - الشرقية ٢٠١٩)
- (و) مصدر طبيعي للمياه الجوفية تتدفق منه المياه لقرنها من سطح الأرض. ()
- (ز) مصدر صناعي للمياه الجوفية التي توجد في باطن الأرض. (الإسكندرية ٢٠١٩)
- (ح) نبات طبيعي له أوراق إسفنجية تخزن المياه لفترة طويلة. ()
- (ط) رياح محملة بالأتربة تهب في شهرى مارس وإبريل. (القاهرة ٢٠١٩)

(الفيوم)

بم تفسر...؟

- ٦ (أ) قيام الزراعة في الواحات.
- (ب) امتلاء الأودية الجافة بالمياه في بعض الأحيان.
- (ج) لرياح الخماسين آثار سلبية.
- (د) فقر النباتات في البيئة الصحراوية.
- (هـ) يتركز النبات الطبيعي في مناطق السهول القريبة من السواحل.

٧ ما النتائج المترتبة على...؟

(الإسمايلية)

(الإسكندرية)

(المنوفية، الإسمايلية)

- ٧ (أ) ندرة الأمطار في البيئة الصحراوية.
- (ب) سقوط الأمطار الفجائية في البيئة الصحراوية.
- (ج) قلة المياه في البيئة الصحراوية.
- (د) وجود الآبار والعيون المائية داخل الواحات بالمنخفضات.

٨ صوب ما تحته خط:

(الجزيرة)

(سواحل)

- ٨ (أ) أكثر جبال البحر الأحمر ارتفاعاً جبل حماطة.
- (ب) توجد هضبة الجلف الكبير في شمال الصحراء الغربية.
- (ج) تعرف الرياح التي تهب على مصر محملة بالأتربة خاصة في شهري مارس وإبريل بـ رياح الهبوب.
- (د) تربة البيئة الصحراوية تربة طينية سوداء.

٩ أعط تعريفاً لكل من المفاهيم الجغرافية الآتية:

(قنا)

- ٩ (أ) منخفض. (سواحل ٢٠١٨) (ب) أودية جافة. (قنا ٢٠١٨)
- (د) الواحات. (القنوية ٢٠١٩)

١٠ ماذا يحدث إذا...؟ جفت المياه الجوفية في الواحات.

أسئلة مميزة

يجيب عنها التلميذ



- أجب عن الأسئلة الآتية لتجمع نجوم التفوق:

١- (قام شباب بإقامة مشروع في مجرى وادي العريش)، على ضوء ذلك حدد الخطأ الذي قام به معلما لما تقول.



٢- ماذا يحدث إذا...؟

(أ) امتد نهر النيل في البيئة الصحراوية. (ب) سقطت الأمطار بغزارة على البيئة الصحراوية.



اختبار شامل على الدرس الأول



حجم
التقييم



١ (أ) أمامك خريطة صماء لجمهورية مصر العربية، اكتب ما

تشير إليه الأرقام:

- ١- الصحراء
- ٢- جبل
- ٣- جبل
- ٤- منخفض

(ب) ما النتائج المترتبة على...؟

- ١- سقوط الأمطار الغزيرة في الأودية الجافة.
- ٢- هبوب رياح الخماسين في شهري مارس وإبريل.

(أ) صوّب ما تحته خط في العبارات التالية:

- ١- تهب رياح الخماسين على مصر في فصل الخريف.
- ٢- تبلغ مساحة الصحراء الشرقية نحو ٦٨٪ من مساحة مصر.
- ٣- جبل سانت كاترين أعلى جبال البحر الأحمر.
- ٤- تنتشر الأودية الجافة في الصحراء الغربية.

(ب) بم تفسر...؟

(الفيوم ٢٠١٨)

- ١- قيام الزراعة في الواحات.
- ٢- تركز النبات الطبيعي في مناطق الأودية بالبيئة الصحراوية.

(أ) أكمل العبارات التالية بالكلمات المناسبة:

- ١- الكنبان الرملية هي تجمعات من الرمال مثل بين مصر وليبيا.
- ٢- أعلى جبال مصر ارتفاعاً هو جبل ٣- يقطع وادي هضبة العبادية بالصحراء الشرقية.
- ٤- من أودية سيناء وادي الذي يصب في

(ب) ماذا يحدث إذا...؟

- ١- جفت خزانات المياه الجوفية في البيئة الصحراوية.
- ٢- تم البناء في الأودية الجافة.

أكمل جدول المقارنة التالي بالكلمات المناسبة:

| وجه المقارنة | الصحراء الشرقية | الصحراء الغربية | شبه جزيرة سيناء |
|--------------|-----------------|-----------------|-----------------|
| اهم الجبال | | | |
| اهم الهضاب | | | |

٤

تدريبات الأضواء الشاملة على الدرس

مجانين معنا
ص 244

أمامك خريطة صماء لمصر، اكتب ما تدل عليه الأرقام الموضحة:



- ١ - منخفض
- ٢ - منخفض
- ٣ - الصحراء
- ٤ - محافظة

أكثر المحافظات الحدودية سكاناً.

أختر الإجابة الصحيحة مما بين الأقواس:

- (١) من محافظات الحدود
 - (ب) تعرف المحافظات الصحراوية بمحافظات الحدود، وأكثرها سكاناً هي
 - (ج) تنتشر الواحات المصرية في
 - (د) من العادات السلبية لسكان البيئة الصحراوية
 - (هـ) من جهود الدولة لحل مشكلة التعليم إقامة
 - (و) الخصائص الاجتماعية لسكان البيئة الصحراوية متعددة منها
- (أ) مطروح - جنوب سيناء - البحر الأحمر - كل ما سبق
- (ب) الوادي الجديد - شمال سيناء - البحر الأحمر - جنوب سيناء
- (ج) الصحراء الشرقية - الصحراء الغربية - سيناء - شمال الدلتا
- (د) إكرام الضيف - احترام المجالس العرفية - العلاج بوسائل بدائية - التعاون (الإسكندرية ٢٠١٩)
- (هـ) المدارس - المعاهد - الكليات - كل ما سبق
- (و) نقص الغذاء - الزواج المبكر - الهجرة - الأمية (الجيزة ٢٠١٨)

اكتب كلمة (صواب) أمام العبارات الصحيحة، وكلمة (خطأ) أمام العبارات غير الصحيحة مع التصويب:

- (١) يعيش سكان البيئة الصحراوية في محافظات الحدود. (الجيزة: السويس ٢٠١٨) ()
- (ب) البيئة الصحراوية بيئة نادرة السكان. ()
- (ج) يتميز سكان البيئة الصحراوية بكرم الضيافة. (الشرقية ٢٠١٩) ()
- (د) يرأس المجالس العرفية في البيئة الصحراوية المحافظ. ()
- (هـ) تزيد نسبة الأمية في البيئة الصحراوية. ()
- (و) تتميز البيئة الصحراوية بتقديم الرعاية الصحية. ()
- (ز) من الخصائص الاقتصادية لسكان البيئة الصحراوية ارتفاع نسبة الأمية. (الجيزة: ٢٠١٨) ()
- (ح) يعتمد سكان الواحات على المياه الجوفية في الزراعة. (الإسماعيلية ٢٠١٩) ()
- (ط) من الخصائص الاجتماعية في البيئة الصحراوية احترام المجالس العرفية. (الغربية ٢٠١٨) ()

بم تفسر...؟

- (أ) تسمية محافظات الحدود بهذا الاسم.
- (ب) قلة عدد سكان البيئة الصحراوية رغم اتساعها.
- (ج) تركيز سكان البيئة الصحراوية في الواحات.
- (د) انخفاض نسبة الأمية في المحافظات الصحراوية مؤخراً.
- (هـ) ارتفاع نسبة الوفيات بالبيئة الصحراوية خاصة بين الأطفال.
- (و) يعاني سكان البيئة الصحراوية من مشكلات اقتصادية.
- (ز) اعتماد البيئة الصحراوية على البيئات الأخرى.

ما النتائج المترتبة على...؟

- (أ) قلة الموارد الطبيعية في البيئة الصحراوية.
- (ب) إقامة الدولة المدارس والمعاهد في البيئة الصحراوية.
- (ج) العلاج بوسائل بدائية في البيئة الصحراوية.

اكتب المصطلح الجغرافي الذي تشير إليه العبارة الآتية:

المحافظات التي تقع على حدود مصر السياسية مع الدول المجاورة.

قارن بين العادات الإيجابية والعادات السلبية لسكان البيئة الصحراوية.

يجيب عنها التلميذ



أسئلة مميزة

اجب عن الأسئلة التالية لتتجمع نجوم التفوق:

١- تخيل أنك من سكان البيئة الصحراوية. حدد إحدى المشكلات الاقتصادية التي تواجه السكان بها. ثم اقترح حلاً لها.



٢- ما رأيك فى...؟

- (أ) هجرة بعض سكان البيئة الصحراوية إلى الوادي والدلتا.
- (ب) اهتمام الدولة بتعمير واستصلاح الصحراء.



الدرس الثالث

الموارد والأنشطة الاقتصادية في البيئة الصحراوية

يجب كتابة التلميذ

اختبار تراكمي على الدروس السابقة



أمامك خريطة صماء لجمهورية مصر العربية، اكتب ما تحل عليه الأرقام:

- ١- هضبة
- ٢- وادي
- ٣- واحة
- ٤- جبل

(١) اكتب كلمة (صواب) أمام العبارات الصحيحة، وكلمة (خطأ) أمام العبارات غير الصحيحة مع التصويب.

- ١- تعد الصحراء الشرقية أكبر صحارى مصر. () (الإسكندرية ٢٠١٩)
- ٢- تنتشر الجبال في وسط وشمال سيناء. ()
- ٣- يوجد جبل العوينات أقصى جنوب غرب الصحراء الشرقية. ()
- ٤- يتميز سكان البيئة الصحراوية بإكرام الضيف. () (الإسماعيلية ٢٠١٩)
- ٥- من الخصائص الاجتماعية في البيئة الصحراوية أن حجم الأسرة صغير. () (الفاخرة ٢٠١٩)

(ب) بم تفسر...؟

- ١- يتركز سكان البيئة الصحراوية في الواحات. (الفاخرة ٢٠١٩)
- ٢- انخفاض نسبة الأمية في البيئة الصحراوية في الفترة الأخيرة.
- ٣- رياح الخماسين لها آثار سلبية.
- ٤- كثرة المشاكل الاقتصادية في البيئة الصحراوية.

(١) أكمل العبارات الآتية بكلمات مناسبة:

- ١- يعيش سكان البيئة الصحراوية في محافظات.
- ٢- من هضاب الصحراء الغربية هضبة في الشمال.
- ٣- من العادات الإيجابية لسكان البيئة الصحراوية واحترام المجالس

(ب) دلل جغرافياً على صحة العبارة الآتية:

- تهتم الدولة بنشر التعليم في البيئة الصحراوية. (الإسكندرية ٢٠١٩)

ماذا يحدث إذا...؟ - جفت المياه الجوفية في الواحات.

«تعمل الدولة على تنمية البيئة الصحراوية والاستفادة من خيراتها». فى ضوء العبارة وضع:

- (أ) أهم جهود الدولة للقضاء على العادات السلبية في البيئة الصحراوية.
- (ب) جهود الدولة لحل المشكلات الاقتصادية في البيئة الصحراوية.

القضايا المتصلة

- ١- السياحة والوعي السياحي.
- ٢- حسن استخدام الموارد.

أهداف الدرس

- ١- يحدد أهم الموارد الطبيعية في البيئة الصحراوية.
- ٢- يحدد الأنشطة الاقتصادية في البيئة الصحراوية.
- ٣- يستنتج العلاقة بين الموارد الطبيعية وتنوع الأنشطة الاقتصادية.
- ٤- يجمع معلومات عن السياحة في البيئة الصحراوية باستخدام المكتبة وشبكة الإنترنت.
- ٥- يحدد على خريطة مصر مواقع أهم المناطق السياحية.
- ٦- يقترح حلولاً مناسبة للحفاظ على الموارد الطبيعية في البيئة الصحراوية.
- ٧- يقدر أهمية النشاط السياحي لسكان البيئة الصحراوية.

القيم المتصلة

- الولاء للوطن.



تدريبات الكتاب المدرسي

مجاب عنها
٢٥٢ ص

أكمل العبارات التالية بالكلمات المناسبة:

- (أ) أسس الحزب الوطنى عام ١٩٠٧م.
(ب) دعا الزعيم لإنشاء مجلس نيابى بمصر.
(ج) اهتم محمد فريد بالتعليم وأنشأ المدارس لتعليم العمال.

أكتب كلمة (صواب) أمام العبارات الصحيحة، وكلمة (خطأ) أمام العبارات غير الصحيحة مع التصويب فيما يلزم.

- (أ) التحق أحمد عرابى بالجيش المصرى فى عهد سعيد باشا. ()
(ب) طالب أحمد عرابى بالمساواة بين أبناء مصر وغيرهم من باقى الأجناس. ()
(ج) وقفت فرنسا إلى جانب الحركة الوطنية المصرية بعد الاتفاق الودى عام ١٩٠٤م. ()
(د) أدت الامتيازات الأجنبية إلى التدخل الأجنبى فى شئون مصر. ()

اختر الإجابة الصحيحة مما بين الأقواس:

- (أ) بدأ تجنيد أولاد عمد البلاد ومشايخها فى عهد (سعيد باشا - الخديو إسماعيل - الخديو توفيق - إبراهيم باشا)
(ب) قاد مظاهرة عابدين السلمية فى سبتمبر عام ١٨٨١م.
(ج) قام مصطفى كامل بتأسيس جريدة عام ١٩٠٠م. (الوقائع المصرية - المؤيد - اللواء - الأهرام)
(د) قام مصطفى كامل بتأسيس جريدة عام ١٩٠٠م. (الوقائع المصرية - المؤيد - اللواء - الأهرام)

بم تفسر ؟

- (أ) قيام الثورة العربية.
(ب) ازدياد التدخل الأجنبى فى شئون مصر.
(ج) التفاف الجيش والشعب حول أحمد عرابى.
(د) اتصال مصطفى كامل بالدول الأوروبية.

أكتب ثلاثة أسطر عن:

- دور كلٍّ من مصطفى كامل ومحمد فريد فى مقاومة الاحتلال البريطانى.

تدريبات الأضواء الشاملة على الدرس

مجاب عنها
٢٥٢ ص

أكمل العبارات الآتية بكلمات مناسبة:

- (أ) انضم أحمد عرابى للجيش المصرى فى عهد (الخيرة ٢٠١٩)
(ب) طالب أحمد عرابى فى مظاهرة عابدين بعزل وزارة باشا وزيادة عدد إلى ١٨٠٠٠ جندى وتشكيل مجلس نواب.
(ج) منحت الدولة العثمانية الرعايا الأجانب وهو ما أدى إلى سيطرتهم على البلاد. (كفر الشيخ ٢٠١٨)
(د) دخلت القوات البريطانية القاهرة بعد موقعة (الخيرة ٢٠١٩)
(هـ) أسس مصطفى كامل جريدة (الخيرة ٢٠١٩)
(و) عقد بين إنجلترا وفرنسا فى عام ١٩٠٤ ما يعرف بـ (الإسكندرية، قنا ٢٠١٨)
(ز) رفض مد مشروع امتياز قناة السويس عام ١٩١٠م. (الإسكندرية، المنيا ٢٠١٨)
(ح) قاد مظاهرة عابدين السلمية فى سبتمبر عام ١٨٨١م. (أسبوط ٢٠١٩)

اختر الإجابة الصحيحة مما بين الأقواس:

- (أ) كان أحمد عرابى عضواً بارزاً فى جمعية (الجامعة المصرية - الوفد المصرى - عابدين - مصر الفتاة) (السويس ٢٠١٨)
(ب) من مظاهر التدخل الأجنبى فى مصر (المراقبة الثنائية - القروض - الامتيازات الأجنبية - كل ما سبق)
(ج) فشلت القوات البريطانية فى دخول البلاد عن طريق عام ١٨٨٢م.
(د) التل الكبير - قناة السويس - كفر الدوار - إمبابة (سوماج ٢٠١٨)
(هـ) قامت باحتلال مصر عام ١٨٨٢م. (فرنسا - ألمانيا - إنجلترا - روسيا)
(و) كان الحاكم الفعلى للبلاد بعد الاحتلال البريطانى لمصر (أحمد عرابى - الخديو توفيق - السلطان العثمانى - المعتمد البريطانى) (الغربية ٢٠١٨)
(ز) عقدت الاتفاق الودى عام ١٩٠٤م. (إنجلترا وفرنسا - إنجلترا وروسيا - فرنسا وألمانيا - إنجلترا والدولة العثمانية)
(ح) أسس مصطفى كامل الحزب المصرى عام ١٩٠٧م. (الوفد - الوطنى - الإصلاح - الأمة) (السويس ٢٠١٨)
(ط) بعد حادثة دنشواى ١٩٠٦ تم عزل اللورد (كرومر - كاتشتر - ونجت - ملتر) (الغربية ٢٠١٨)
(ي) بدأ أحمد عرابى كفاحه ضد استبداد النظام التركى منذ عهد (سعيد باشا - الخديو إسماعيل - الخديو توفيق - طلعت حرب) (الشرقية ٢٠١٩)
(ك) حاول مصطفى كامل اجتذاب الخديو إلى صفوف الحركة الوطنية. (إسماعيل - توفيق - عباس حلمى الثانى - سعيد) (القليوبية ٢٠١٩)

3 صوب ما تحته خط:

- (أ) التحق عرابي بالجيش المصري في عهد الخديو توفيق.
(ب) قاد محمد فريد مظاهرة عابدين السلمية.
(ج) اشترك أحمد عرابي في تأسيس الجبهة السرية (مصر الحرة).
(د) أسس الزعيم مصطفى كامل جريدة الأهرام.
(هـ) عقدت تركيا مع إنجلترا ما عرف بالاتفاق الودي عام ١٩٠٤م.
(و) خلف الزعيم محمد فريد الزعيم مصطفى كامل في رئاسة حزب الوفد.
(ز) رفض سعيد مد امتياز شركة قناة السويس عام ١٩١٠م.
(ح) دعا طلع حرب إلى إنشاء مدارس ليلية.

4 إلى من تنسب الأعمال التاريخية التالية؟

- (أ) انضم للجيش المصري في عهد سعيد باشا.
(ب) عرضت عليه مطالب الأمة في مظاهرة عابدين في سبتمبر عام ١٨٨١م.
(ج) قاد مظاهرة عابدين السلمية عام ١٨٨١م.
(د) عزل من منصبه كعمد بريطاني في مصر عقب حادثة دنشواي عام ١٩٠٦م.
(هـ) قام بتأسيس جريدة اللواء عام ١٩٠٠م كما أنشأ الحزب الوطني المصري عام ١٩٠٧م.
(و) رفض مد الامتياز لشركة قناة السويس عام ١٩١٠م.
(ز) أنشأ المدارس الليلية لتعليم الفقراء مجاناً.
(ح) بدأ في عهده تجنيد أولاد العمد والمشايخ.

5 اكتب المفهوم التاريخي الذي تشير إليه العبارات الآتية:

- (أ) جمعية سرية شارك أحمد عرابي في تأسيسها ثم أصبح عضواً بارزاً بها.
(ب) جريدة أسسها مصطفى كامل لنشر الوعي الوطني بين المصريين.
(ج) اتفاق بين إنجلترا وفرنسا ينص على إطلاق يد إنجلترا في حكم مصر مقابل إطلاق يد فرنسا في حكم المغرب.

6 اكتب كلمة (صواب) أمام العبارات الصحيحة، وكلمة (خطأ) أمام العبارات غير الصحيحة فيما يلي:

- (أ) التحق (أحمد عرابي) بالجيش المصري في عهد توفيق باشا.
(ب) أدت الامتيازات الأجنبية إلى التدخل الأجنبي في شئون مصر.
(ج) تولى مصطفى كامل زعامة الحركة الوطنية المصرية أواخر القرن الثامن عشر الميلادي.
(د) تخلت فرنسا عن تأييدها للحركة الوطنية المصرية بعد الاتفاق الودي ١٩٠٤م.
(هـ) عزل اللورد كرومر من منصبه بعد حادثة دنشواي سنة ١٩٠٦م.

- (و) طالب أحمد عرابي بالمساواة بين أبناء مصر وغيرهم من الأجناس الأخرى.
(ز) دعم محمد فريد مشروع مد امتياز شركة قناة السويس ١٩١٠م.

7 ما النتائج المترتبة على...؟

- (أ) مظاهرة عابدين ٩ سبتمبر ١٨٨١م.
(ب) هزيمة «أحمد عرابي» في معركة التل الكبير في سبتمبر عام ١٨٨٢م.
(ج) الاحتلال البريطاني لمصر.
(د) عقد الاتفاق الودي بين إنجلترا وفرنسا عام ١٩٠٤م.
(هـ) كفاح مصطفى كامل بعد حادثة دنشواي ١٩٠٦م.
(و) تضيق سلطات الاحتلال البريطاني والسلطات الحاكمة على أنشطة محمد فريد الوطنية.

8 بهم نفس...؟

- (أ) قيام الثورة العرابية. (الأقصى، الإسماعيلية ٢٠١٩)
(ب) فشل الثورة العرابية.
(ج) سوء أحوال مصر الاقتصادية في عهد توفيق.
(د) فشل الإنجليز في دخول مصر عن طريق كفر الدوار.
(هـ) إنشاء مصطفى كامل جريدة اللواء.
(و) تحلى فرنسا عن تأييدها لمصطفى كامل عام ١٩٠٤م.
(ز) إنشاء محمد فريد المدارس الليلية.

9 «لقد كان مصطفى كامل باعثاً للحركة الوطنية في مصر، وجاءت خطبه ومقالاته تهدف إلى كراهية الاستعمار ورفض وجوده». في ضوء العبارة أجب:

- (أ) لماذا تخلت الحكومة الفرنسية عن تأييدها لمصطفى كامل وقضية استقلال مصر؟
(ب) ما نتائج كفاح مصطفى كامل؟

أسئلة مميزة



يجيب عنها التلميذ

أجب عن الأسئلة التالية لتجمع نجوم التفوق:

- ١- ما رأيك في المطالب التي تقدم بها أحمد عرابي إلى الخديو توفيق في مظاهرة عابدين مدلاً على ما تكتب.
٢- حدد أوجه الاتفاق والاختلاف بين محمد فريد ومصطفى كامل.

